





प्र. 3 बाद में आने वाली संख्या लिखो।

18	25
52	59
65	73
88	99

प्र. 4 जोड़ कर बताइए कितने हैं ?

7	+	5
6	+	8
9	+	6
10	+	3
16	+	4

प्र 5 गिनकर लिखिए।

क्र.सं	वस्तुएँ	कुल संख्या
1		
2		
3		
4		
5	