

द्वितीय योगात्मक आकलन 20 -20

विषय – गणित

कक्षा – 2






दिनांक –

नाम

रोल नं०

प्राप्त ग्रेड

प्र 1 गिनकर लिखिए।

क्र सं	वस्तुएँ	कुल संख्या
1		
2		
3		
4		
5		

प्र 2 पहाड़े बनाओ।

3		9		15		21			
5			20		30				50
	14			35		49			70
9		27			54			81	

प्र.3 मिलान कीजिए।

$$15 + 6$$

9

$$12 + 8$$

30

$$6 + 3$$

20

$$8 + 22$$

21

प्र.4 चीपू के पास 100 रुपये का एक नोट है। दुकानदार इस नोट के बदले 20 रु के कितने नोट देगा ?

प्र. 5 सूरज के पास 5 रु के दो नोट और 10 रु के दो नोट है तो बताओ उसके पास कुल कितने रुपये है ?

प्र. 6 यदि आपके पास 50 रु हैं तो खुल्ले करवाने पर आपके पास 5 – 5 रु के कुल कितने सिक्के आएंगे ?

प्र. 7 अंग्रेजी महिनों के नाम के आगे उनके दिनों की संख्या लिखिए।

क्र.सं	महिनों के नाम	माह में दिनों की संख्या
1	जनवरी	
2	फरवरी	
3	मार्च	
4	अप्रैल	
5	मई	
6	जून	
7	जुलाई	
8	अगस्त	
9	सितम्बर	
10	अक्टूबर	
11	नवंबर	
12	दिसंबर	

अध्यापक टिप्पणी –